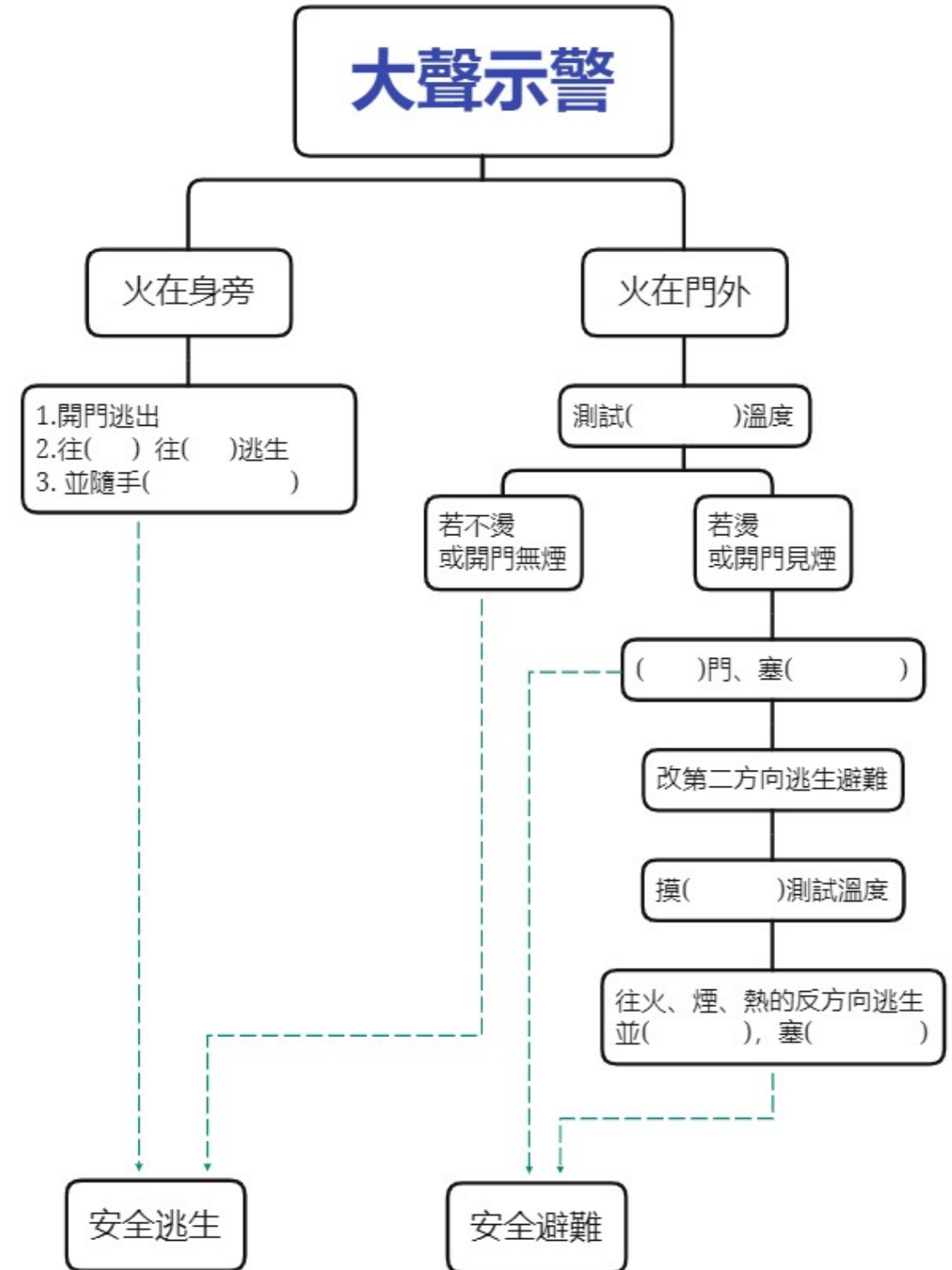


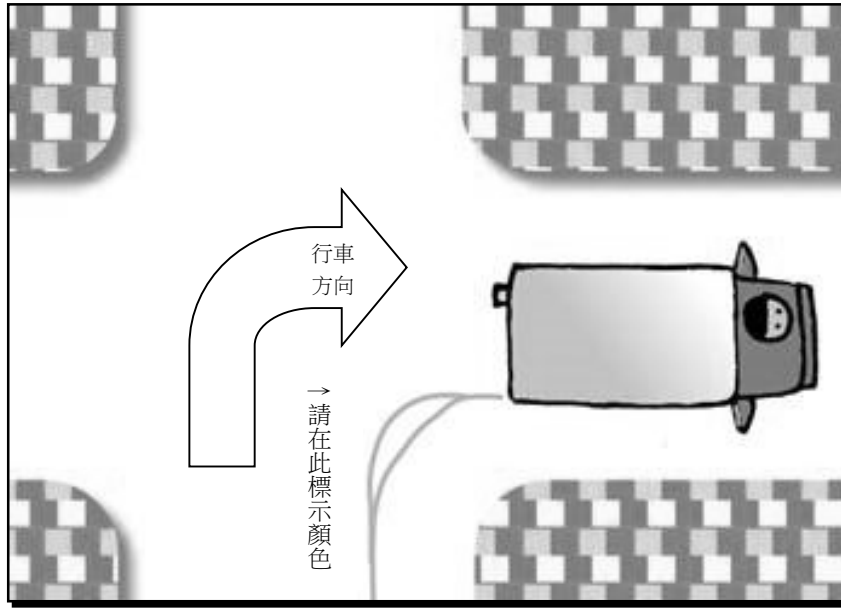
➤ 火災求生避難流程圖:整理以下表格，填入括號中。



交通安全知多少？

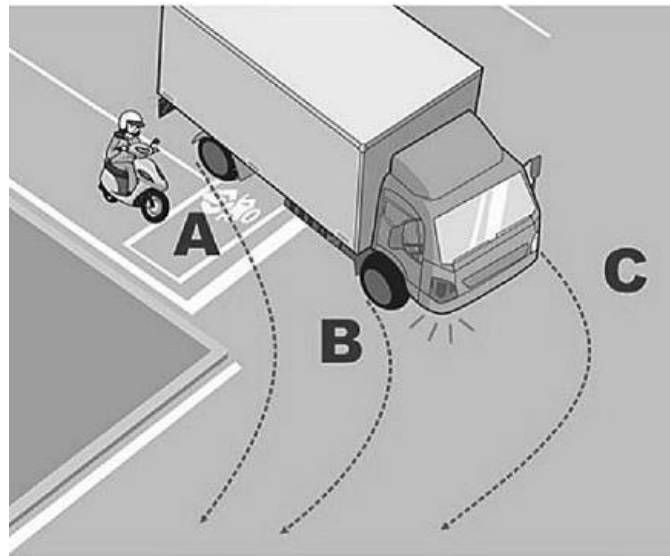
一、內輪差

大車輛轉彎時，內側前、後輪軌跡並不會在同一條線上，後輪會向內偏移，而偏移的距離叫做「內輪差」，且車輛越大，內輪差也越大。右圖中黑色線條是大貨車轉彎時，內側前、後輪的軌跡，請將前輪的軌跡塗上紅色，後輪的軌跡塗上藍色，內輪差的區域塗上黃色。



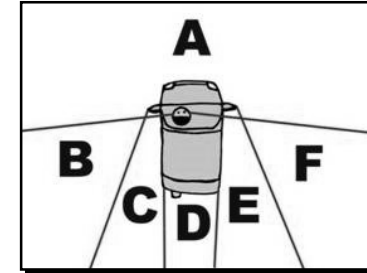
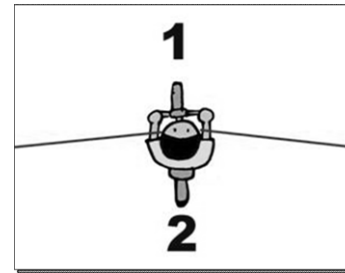
【想一想】

1. 依照右圖，ABC 哪個區域是安全的？_____
2. 下雨天或夜間，駕駛最容易看到的雨衣顏色是(1)深藍色 (2)黑色 (3)黃色(4)咖啡色
3. 如不幸發生交通事故時，下列處理事項何者正確(1)可直撥「110」警察局勤務指揮中心電話報告事務狀況。(2)通報警察單位處理要詳細說出發生事故地點。(3)如有傷患，可用紗布或乾淨的手帕施予止血保護傷者。(4)以上皆正確。



二、死角

無論是哪一種交通工具，都有無法從肉眼或透過後視鏡看見的區域，這些區域叫做「視野死角」。請將下列三張駕駛者的視野死角塗上藍色，並回答下列問題。



【想一想】

1. 車子行駛中，駕駛者應該如何避免因視野死角而與其他車輛或行人發生擦撞？

2. 以騎腳踏車為例，要如何減少腳踏車騎士的視野死角？
答：腳踏車加裝_____，轉彎時要_____

三、交通安全標語

- A. 你若酒駕，我就改嫁
- B. 喝的醉醉，撞的碎碎
- C. 你超速，爽國庫
- D. 這附近沒有醫院，請小心駕駛
- E. 不繫安全帶，小孩沒人帶
- F. 烏龜烏龜翹，烏龜不佔超車道
- G. 遲到總比沒到好
- H. 路口退三步，秒數夠才 GO
- I. 騎車不鑽縫，安全回到 HOME
- J. 行車勿手遊，行走勿低頭

1. 請問你最喜歡幾號標語？為甚麼？_____
2. 請設計一個不超過 12 字的交通安全標語
